

Kaie Kubri
Thea Simmerman

POKUAABITSA TÖÖRAAMAT

K E V A D / S U V I

Illustratsioonid:


Edgar Valter
Liina Tuuling



 ELMATAR 2013


KESKKONNAINVESTEERINGUTE
KESKUS

Kevade saabumine



PÄIKE PAISTAB.

POKU PIILUB OJA ÄÄRES ESIMEST KEVADE-KUULUTAJAT.

SEE ON VÄIKE LINA-VÄSTRIK.

LINA-VÄSTRIKKU KUTSUTAKSE KA JÄÄ-LÕHKUJAKS.

KUI TA OMA SABAGA KIIRESTI ÜLES-ALLA VEHIB, ON SELGE, ET TA LÕHUB JÄÄD.

TASUKS SAAB TA LIIVALT MÕNE VARAJASE PUTUKA.

VAATA PILTI JA JUTUSTA:

 MILLINE ILM ON ÖUES?

 KEDA POKU NÄEB?

 KUIDAS SEDA LINDU
KUTSUTAKSE?


 MIDA LINNUKE TEEB?

 MILLISED LINNUD ON VEEL
KEVADEKUULUTAJAD?

 HÄÄLI, LAO JA KIRJUTA PILDILE
PUUDUVAD SÕNAD.

 LOE SÕNU

 LOE SÕNU PAARIDENA.

 TÕMBA RING ÜMBER SÕNALE, MIS SOBIB
LINA VÄSTRIKU KOHTA.

SUUR

VÄIKE

HALLIKIRJU

VÄRVIKIREV

PIKK SABA


LÜHIKE SABA

SÖÖB TERASID

SÖÖB PUTUKAID

PAIGALIND

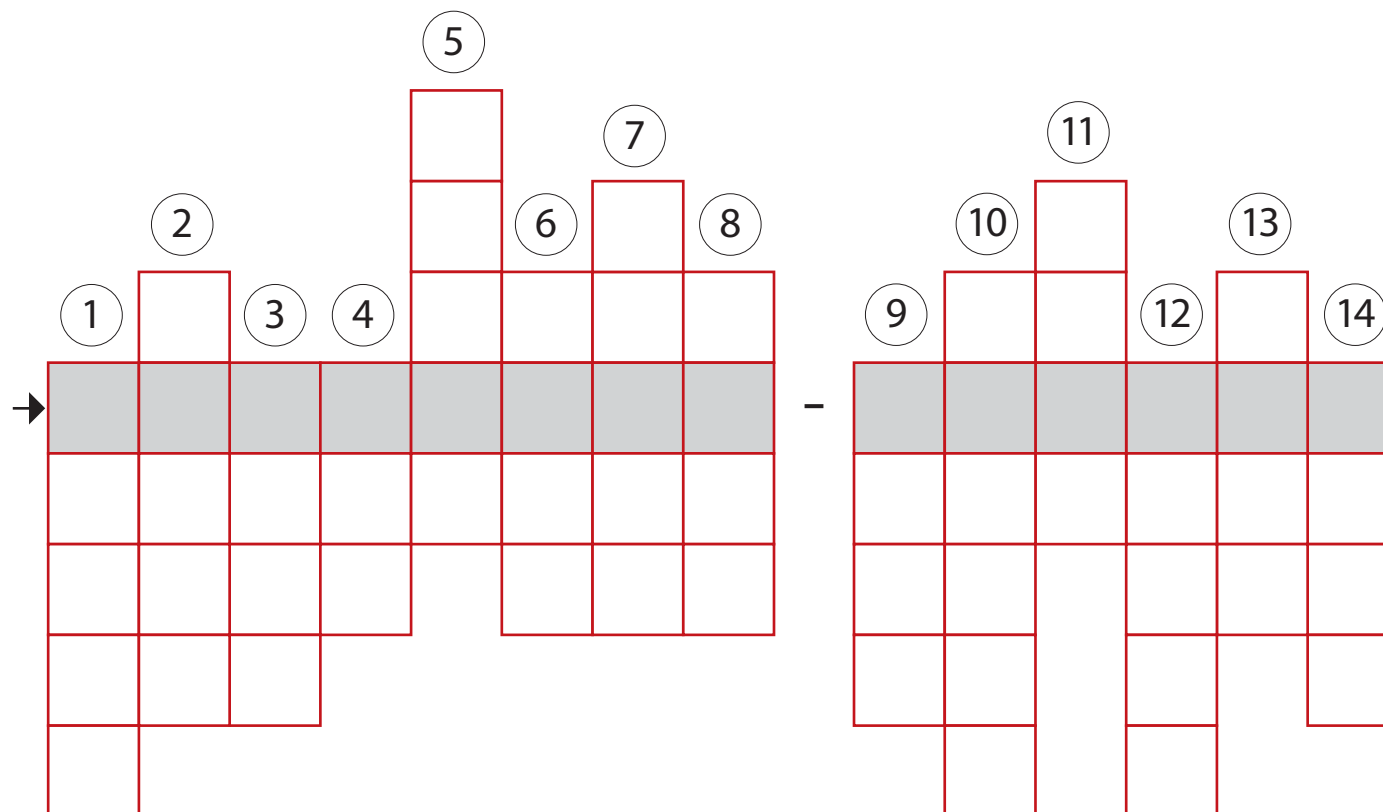
RÄNDLIND

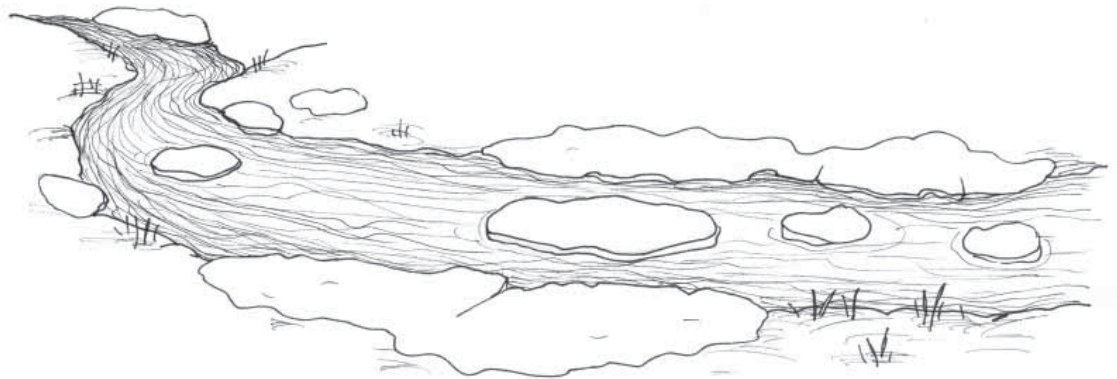


**RAHVASUUS KUTSUTAKSE LINAVÄSTRIKKU PALJUDE NIMEDEGA, NÄITEKS LINALIND,
PIKAHÄNNAMES, JÄÄPÕRUTAJA, KIITSAKAS JA PALJUD TEISED.
LINAVÄSTRIK ON LÄTI RAHVUSLIND.**

 KIRJUTA RISTSÕNASSE VASTANDSÕNAD JA SAAD TEADA VEEL ÜHE LINAVÄSTRIKU RAHVAPÄRASE NIME.


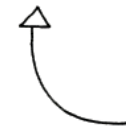
1. ARG
2. SUUR
3. VALGE
4. TAGA
5. VÄHE
6. NUTT
7. PIME
8. HUVITAV
9. HELE
10. ÕHTU
11. VANA
12. MÕRU
13. HILJA
14. VÄIKE





NÄPUTÖÖNURK

- ▶ JOONISTA ÕPETUSE JÄRGI PILDILE LINAVÄSTRIKKE.
- ▶ VÄRVI LINNUD ÕIGET VÄRVI.




 LIIDA. ÜHENDA ÕIGE VASTUSEGA.

$4 + 2$




$7 + 1$

$5 + 5$



$3 + 5$

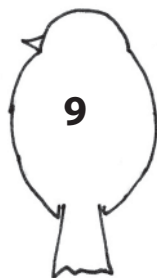
$3 + 3$



$6 + 3$

$8 + 2$


$4 + 4$



$7 + 2$


 LAHUTA. ÜHENDA ÕIGE VASTUSEGA.

$7 - 4$



$9 - 2$

$6 - 5$



$10 - 7$


$8 - 5$

$6 - 1$



$10 - 5$

$7 - 6$



$9 - 8$

 LOE TÖÖJUHEIDIT.

 KIRJUTA LINNU JUURDE TEMA NIMI.

SIUTS LENDAB LIIRIST VASAKUL

LIIRI SEISAB.

PIRTS LENDAB LIIRI JA LÕÕRI VAHEL.

TIUKS LENDAB LÕÖRIST PAREMAL.

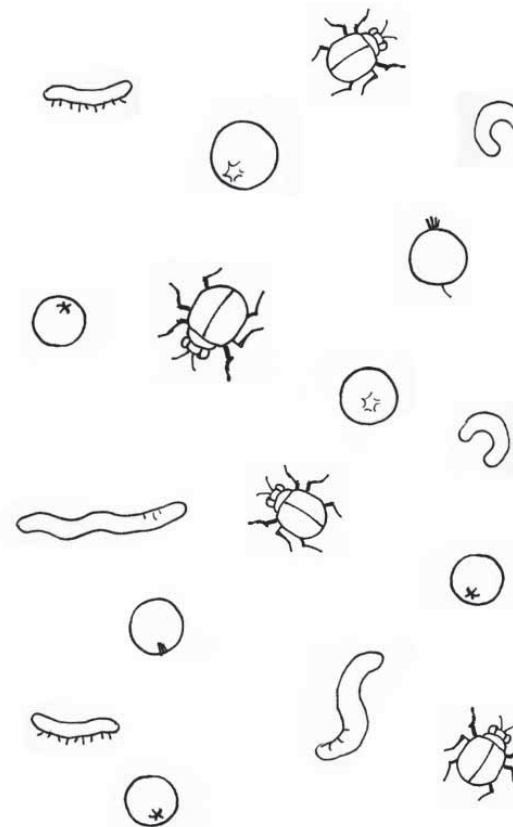



VASAK


PAREM

 OLE TÄHELEPANELIK.

 MÄRGISTA LINDUDE TOIT NÄIDISE JÄRGI.



Kevadlilled



**KEVAD AINA LÄHENES.
LUME SEEST PISTSID NINA VÄLJA LUMI-KELLUKESED.
ÕITSEMA HAKKAS NÄSI-NIIN.
NEID KÄISID POKUD JA PUUKO IGA PÄEV VAATAMAS.
KÕIKI VALDAS ÄREV OOTUS JA RÕÕM.
VARSTI ON METS JA AED ÕISI TÄIS.**



VAATA PILTI JA JUTUSTA:



UURI LÄHEMALT LUMIKELLUKEST JA JOONISTA SEE SIIA.



KUIDAS SAAVAD ESIMESED
LILLED VARAKEVADEL ÕITSEDA?



KUS SINA OLED NÄINUD
ÕITSEMAS LUMIKELLUKESI?



MILLISED LILLED VEEL KEVADEL
VARAKULT ÕITSEVAD?



KAS TEADSID, ET NÄSINIIN
ON MÜRGINE? TEDA EI TOHI
KORJATA.



HÄÄLI, LAO JA KIRJUTA PILDILE
PUUDUVAD SÕNAD.



TASAPISI TÄRKAVAD KEVADLILLED PUUKO TARE ÜMBER.

 LOE JA ÜHENDA SÕNA ÕIGE KEVADLILLE PILDIGA



LUMIKELLUKE
MÄRTSIKELLUKE



KROOKUS

LUMEROOS

SINILILL

ÜLANE

PAISELEHT

NÄSINIIN

SINILILIA





VAATA PILTI JA KOOSTA TEKSTÜLESANNE.



KIRJUTA PILDI JUURDE TEHE.



+ =



- =





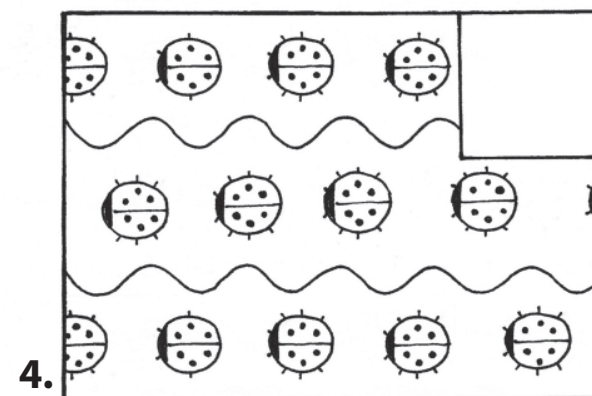
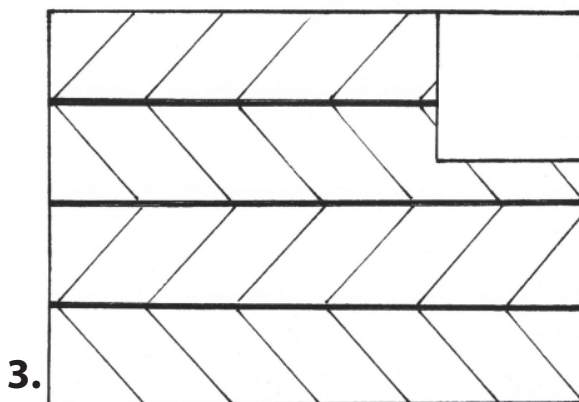
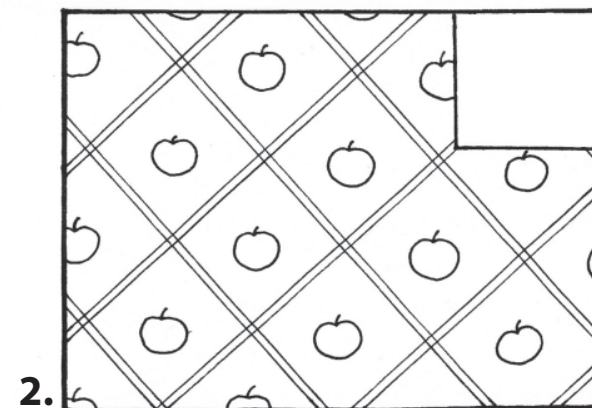
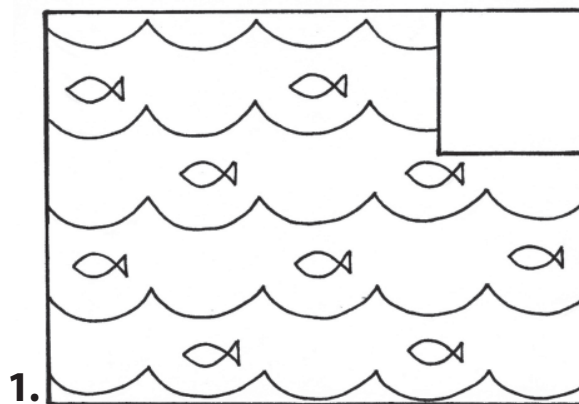
LEIA PILDILT PUUDUVAD
TÜKID.


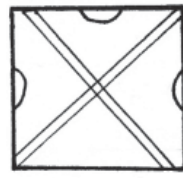
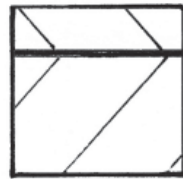
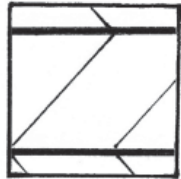

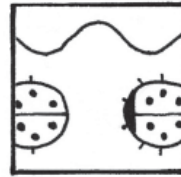

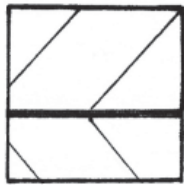


KIRJUTA NENDE JUURDE
ÕIGE NUMBER.



JOONISTA TÜHJALE KOHALE
SOBIV MUSTER.





NÄPUTÖÖNURK

- ▶ JOONISTA PINTSLIGA HÜATSINDILE VARS JA LEHED. LASE TÖÖL KUIVADA.
- ▶ UURI, MIS VÄRVI ÕITEGA, VÕIVAD HÜATSINDID OLLA.
- ▶ VALI MEELDIV VÄRV JA TEE NÄPUJÄLGEDEST ÕIEKOBAR.




Kasemahla võtmas

VAATA PILTI JA JUTUSTA:

- ✿ MILLAL MAHL PUU SEES LIIKUMA HAKKAB?
- ✿ MILLISELT KASELT ON HEA MAHLA VÕTTA?
- ✿ KUIDAS MAHLAVÕTMINE KÄIB?
- ✿ MILLISE MAITSEGA ON KASEMAHL?
- ✿ MILLISE PUU MAHLA VEEL JUUAKSE?

✎ HÄÄLI, LAO JA KIRJUTA PILDILE PUUDUVAD SÕNAD.

**PUUKO TARE TAGA KASVAB TORE KASK.
KEVADEL HAKKAB PUU SEES MAHL LIIKUMA.
PUUKOLE MAITSEB KASE-MAHL. SEE KOSUTAB JA JAHUTAB.
PUUKO PANEB KASE-MAHLA TILKUMA.
MAHLAKASK ON LAHKE. MAHL TILGUB POTTI TILK-TILK-TILK.**



**PUUKO ÕPETAB, KUIDAS
LEIDA HEAD MAHLAKASKE.**



KIRJUTA SÕNA ALGUSESSE
ÕIGE SULGHÄÄLIK K, P VÕI T.



ASK EAB ASVAMA ISUT ÕRGEMA OHA

EAL JA SAAMA ARASJAGU ÄIKEST.


A EI OHI OLLA LIIGA NOOR EGA VANA.

ÄRAST MAHLAVÕTMIST ULEB ASKE

ENASTI ÄNADA.

 JÄRJESTA ARVUD VÄIKSEMAST SUUREMANI.

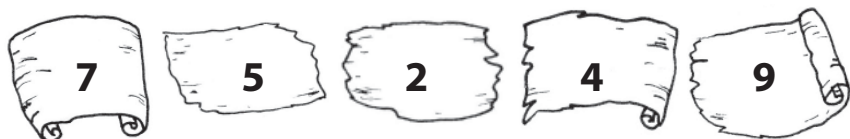
 JÄRJESTA ARVUD SUUREMAST VÄIKSEMANI.



--	--	--	--	--



--	--	--	--	--



--	--	--	--	--



--	--	--	--	--




--	--	--	--	--	--



--	--	--	--	--	--


 UURI NÄIDIST JA ÜHENDA ÕIGED PAARID.



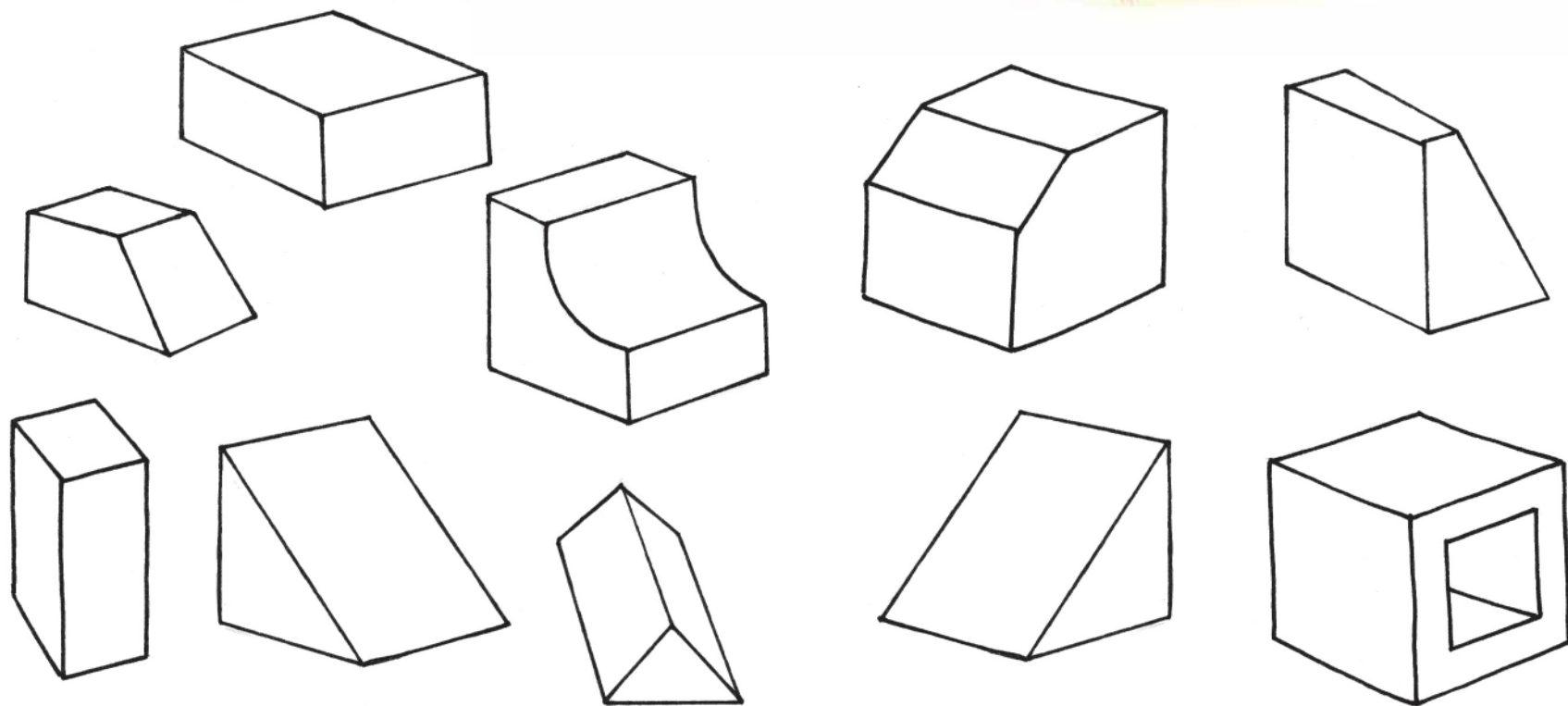
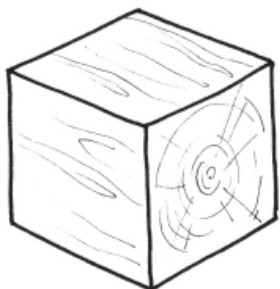
$3 + 1$	$3 + 2$	4
$2 + 4$	$3 + 6$	5
$5 + 3$	$4 + 3$	6
$9 + 1$	$1 + 3$	7
$6 + 3$	$3 + 5$	8
$3 + 4$	$4 + 2$	9
$2 + 3$	$1 + 9$	10

Diagram showing connections between boxes:

- A line connects the box $3 + 1$ to the box $1 + 3$.
- A line connects the box $1 + 3$ to the box 4.


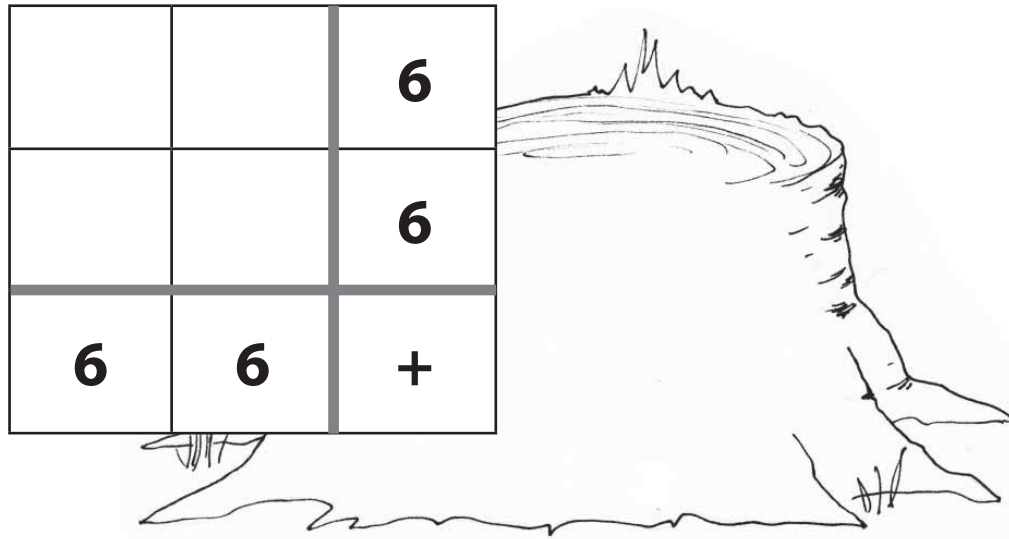
 LEIA KLOTSID, MILLEST SAAB
KOKKU PANNA KUUBI.

 VÄRVI PAARILISED ÜHTE VÄRVI.





NUPUTA. LEIA TABELISSE SOBIVAD ARVUD.




NÄPUTÖÖNURK

- JOONISTA KEVADINE KASK.
- TEE TAUST AKVARELLIDEGA. KLEEBI PUULE KASETOHUST TÜVI.
- JOONISTA PEENIKESE PINTSLI VÕI VILDIKAGA KASEOKSAD JA PISIKESED HIIREKÖRVAD.



Kevade hääl



VAATA PILTI JA JUTUSTA:



KEDA NÄED PILDIL?



KUS NEMAD TALVE VEETSID?



MILLISEID MÄNGE SAAB
MÄNGIDA KEVADVETEGA?



MILLIST KEVADMUUSIKAT OLED
SINA KUULNUD?



MIDA PEAB KEVADEL ÕUES
MÄNGIDES MEELES PIDAMA?



HÄÄLI, LAO JA KIRJUTA PILDILE
PUUDUVAD SÕNAD.

KA KEVAD-VEED POETAVAD OMA VIISI SUURDE ORKESTRISSE.

VESI VOOLAB RÕÖMSA VULINAGA JÄRVE POOLE.

KÕIK VULKSUB, SOLISEB, SIUTSUB, SIRISTAB, LÕÕRITAB, SUMISEB, KOHISEB.

KÕIK HARJUTAVAD OMA VIISI. SEE ON VÄÄRT MUUSIKA.

ESIMENE LIBLIKAS ENNUSTAB SUVE.

KOLLANE LIBLIKAS KINGIB KULDSE SUVE, KIRJU LIBLIKAS KIRJU SUVE.



KIRJUTA TÄISHÄÄLIKUD SÕNAS ÕIGELE KOHALE JA SAAD TEADA, MILLISEID
LIBLIKAID NÄED KEVADEL ESIMESENA.

L **P S** - **L** **B L** **K** **S**

(A, U, I, I, A)

V **K** - **K** **R** - **L** **B L** **K** **S**

(Ä, I, E, O, E, I, I, A)



 PEIDA PAREMPOOLNE JUTT.

 NUMMERDA VASAKUL POOL OLEVAD SÕNAD 1 – 5.

 KIRJUTA SÕNAD LAUSETESSE.

 LOE OMA NALJAJUTT ETTE.

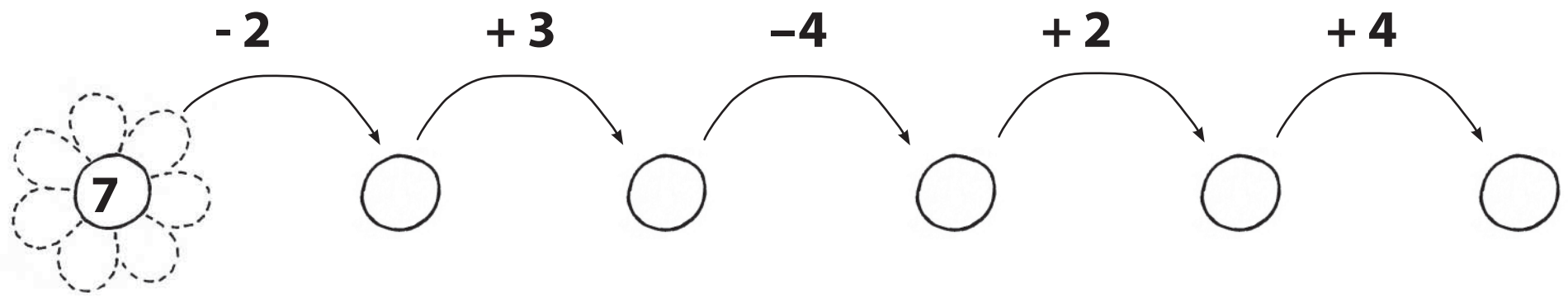
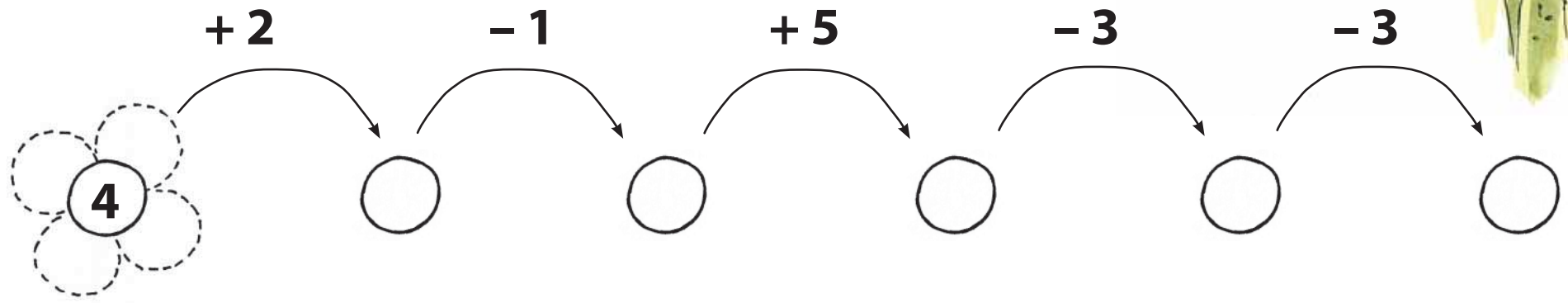



NALJAJUTT

- KONN** 1. _____ KUULAB KEVADE HÄÄLI.
- KÄRBES** 2. _____ VULISEB.
- LÕOKE** 3. _____ LÕÕRITAB TAEVA ALL.
- POKU** 4. _____ KROOKSUB KIVIL.
- VESI** 5. ESIMENE _____ SUMISEB.

 ARVUTA JA KIRJUTA VASTUS LILLELE.

 JOONISTA JUURDE ÕIGE ARV KROONLEHTI.



 KÕIK LIBLIKAD ON KOLMEVÄRVILISED.

 VALI KOLM VÄRVIPLIATSIT.

 VÄRVI LIBLIKAD ERINEVALT, KASUTADES AINULT VALITUD VÄRVE.




NÄPUTÖÖNURK

- ▶ TRÜKI GUAŠŠVÄRVIDEGA LIBLIKAS. MURRA PABER POOLEKS.
- ▶ JOONISTA PABERI KESKELE GUAŠŠVÄRVIDEGA POOL LIBLIKA KEHAST JA PEAST. SURU PABER KOKKU JA TRÜKI SEE TEISELE POOLELE.
- ▶ JÄTKA JOONISTAMIST JA TRÜKKIMIST, KUNI LIBLIKAS SAAB VALMIS.



Kevadised aiatööd



KEVADEL ON AIAS PALJU TÖÖD.

TULEB TEHA PEENRAD, KÜLVATA SEEMNED JA ISTUTADA TAIMED.

KÕIK VAJAB HOOLT. POKUDEST ON PALJU ABI.

PUUKO TEAB: MIDA KÜLVAD KEVADEL, SEDA LÕIKAD SÜGISEL.




AITA PUUKOL TÖÖRIISTAD KOKKU KORJATA JA KUURI VIIA.



KIRJUTA TÖÖRIISTA JUURDE NUMBER, MILLISES JÄRJEKORRAS PUUKO NEID ÜLES TÕSTA SAAB.



KIRJUTA SIIA PUUKO TÖÖRIISTADE NIMEKIRI.



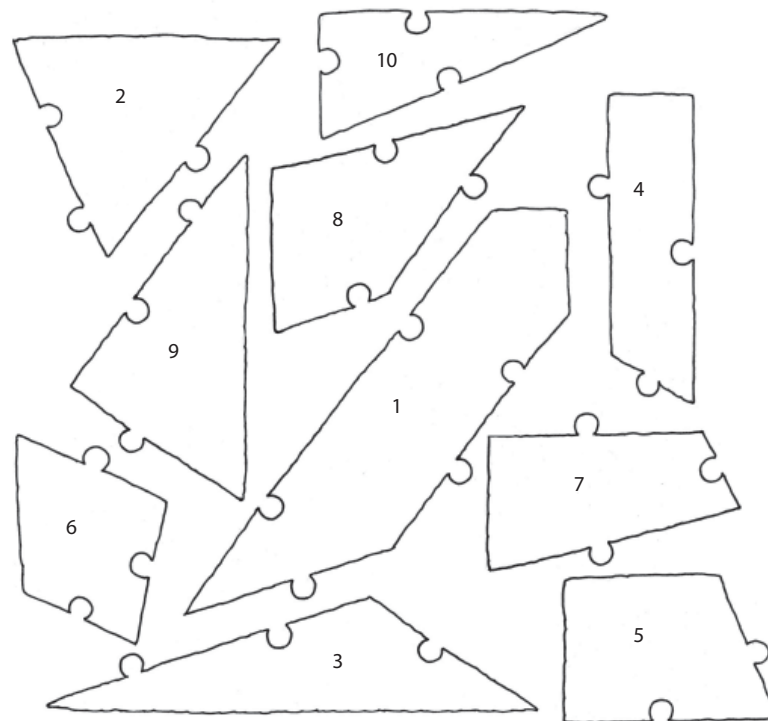
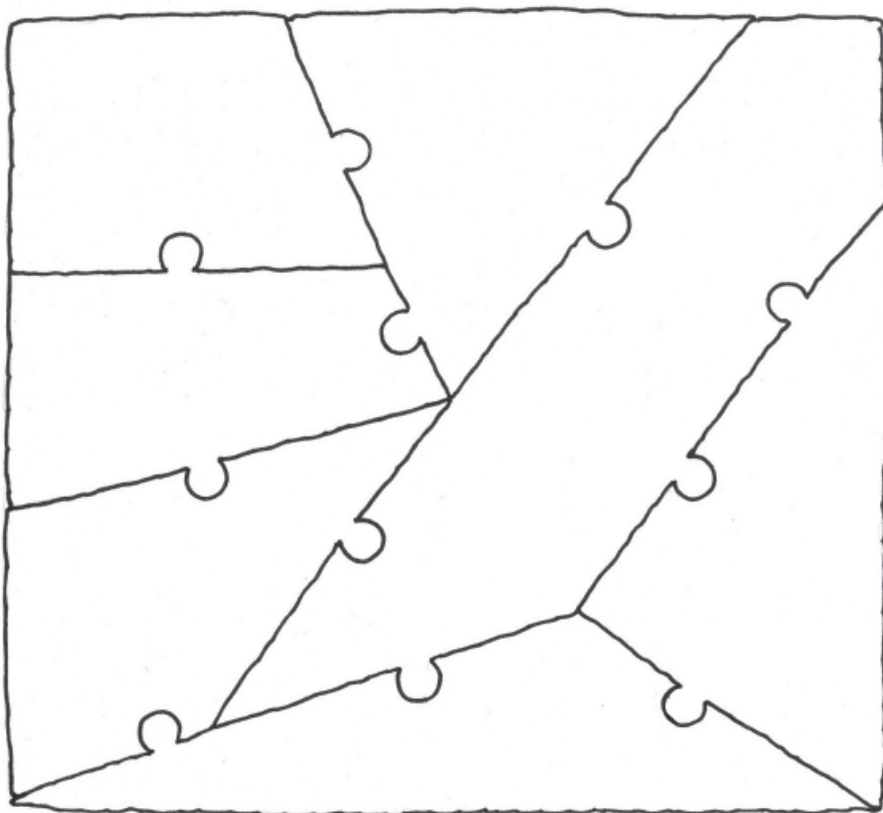
1. _____
2. _____
3. _____
4. _____
5. _____



MILLISED TÜKID LEIAD PUUKO PEENRALT.



KIRJUTA NUMBER ÕIGELE KOHALE.



 LEIA LIITES ARVUPAARID JA TÕMBA NEILE ÕIGE VÄRVIGA RING ÜMBER.

7 – KOLLANE

8 – PUNANE


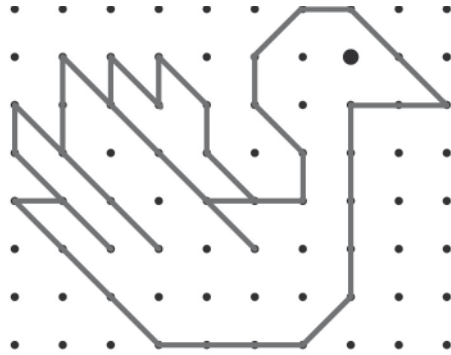
9 – SININE

10 – ROHELINE

4	4	3	8	2	6	8
3	6	2	1	7	4	1
5	4	3	8	5	3	6
1	7	6	2	2	3	2
5	2	7	8	6	5	3
3	4	1	2	6	7	1
3	8	1	8	3	5	2



 JOONISTA SAMASUGUNE LIND.



NÄPUTÖÖNURK

- ▶ TEE VANAST KUMMIKUST VÄIKE PEENAR.
- ▶ KAUNISTA KUMMIK AKRÜÜLVÄRVIDEGA.
- ▶ LASE VÄRVIL KUIVADA.
- ▶ PANE KUMMIKUSSE KASVAMA MÖNI TAIM.





Lindude saabumine



**KASE OTSAST KOSTAB KULDNOKA LAULU.
KULDNOKK KULLO ON JUBA KOHAL
JA OOTAB UUT KODU.
PUUKO SAEB JA KOPSIB HOOLEGA.
TA EHITAB LINDUDELE PESAKASTI.
VARSTI ON SEE VALMIS JA KULLO SAAB SISSE KOLIDA.**

VAATA PILTI JA JUTUSTA:

 MILLEST PUUKO PESAKASTE
TEEB?


 MILLISEID TÖÖRIISTU
TAL VAJA LÄHEB?

 MILLISTELE LINDUDELE
PESAKASTE EHITATAKSE?

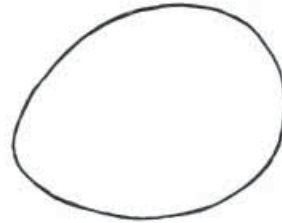
 KUHU JA KUIDAS ON HEA
PESAKASTI KINNITADA?

 HÄÄLI, LAO JA KIRJUTA PILDILE
PUUDUVAD SÕNAD.

LOE JA NUPUTA.

 KIRJUTA JUURDE, KELLE MUNAD
NEED ON.

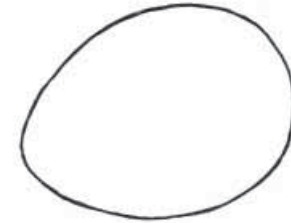
 VÄRVI IGA LINNU MUNA ÕIGET
VÄRVI.



HE-LE-LIND



Wikipedia



KUKK-NOLD



loodusfoto.ee



PISIKE POKU LEIDIS PUU OTSAST PESA. PESA OLI VÄIKE JA ARMAS. SEAL ON LINNUL MÕNUS.

METSAS ELAVAD LINNUD TEEVAD PESA PUU OTSA.

PUU OTSA TEEB PESA PORR, PEOLEO, PÖIAL-POISS, METS-VINT, RÄHN JA VARES.



KIRJUTA LINDUDE NIMEDES TÄISHÄÄLIKUD PUNASE PLIATSIGA ÜLE.



PEOLEO



METS-VINT



PÖIAL-POISS



VARES



MUSTRÄHN

MÕNI LIND EHITAB PESA MAAPINNALE. TA OTSIB VARJULISE KOHA, KUS SEDA EI MÄRGATA. MAAPINNALE TEEVAD OMA PESA ÖÖBIK, LÕOKE, LEHE-LIND, MUST-RÄSTAS, NURM-KANA, SOO-KURG, KASSI-KAKK JA TEDER.

 KIRJUTA LINDUDE NIMEDES SULUTA KAASHÄÄLIKUD SINISE JA SULGHÄÄLIKUD ROHELISE PIIATSIGA ÜLE.



ÖÖBIK



MUST-RÄSTAS



KASSI-KAKK



SOO-KURG



LÕOKE



NURM-KANA



TEDER

 ARVUTA JA ÜHENDA MUNA ÕIGE PESAGA.

$3 + 4$

$2 + 5$

$1 + 3$


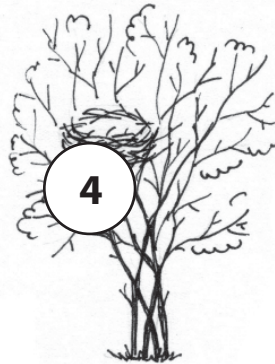
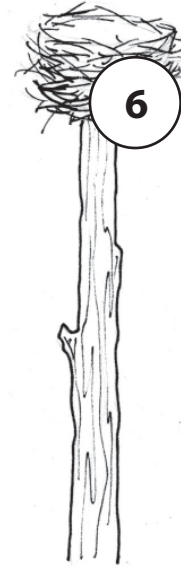
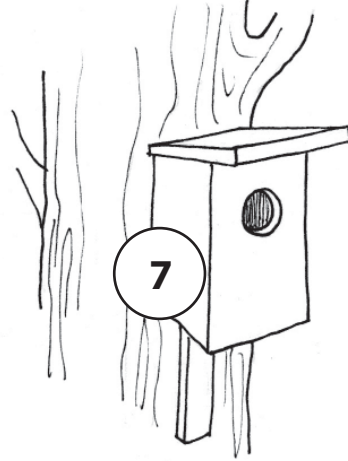
$9 - 5$

$10 - 4$

$8 - 2$

$10 - 1$

$1 + 8$



$10 - 3$

$6 - 1$

$8 - 4$

$5 - 1$

$3 + 3$

$12 + 4$

$7 + 2$

$3 + 6$

 LOE JA NUPUTA.

PUUKO MAJA JUURES PESITSEB KOLM KULDNOKKA, KAKS
LINAÄSTRIKKU, ÜKS ÖÖBIK JA NELI LEHELINDU. MITU LINDU
PESITSEB PUUKO MAJA LÄHEDAL?




$$\square + \square + \square + \square = \square$$

NÄPUTÖÖNURK

- MEISTERDA LINNUPESA.
- VÄRVI SVAMMITRÜKIGA POOL PAPITALDRIKUT PRUUNIKS JA POOL SINISEKS. LÕIKA VÄRVILISEST PABERIST LIND.
- JOONISTA VÕI LIIMI SELLELE NOKK JA SILM. SABA TEE VÄRVILISTEST SULGEDEST. KUI SOOVID, KAUNISTA PESA SULGEDE, NIINE VÕI ÖLGEDEGA.





**PUUKO VIIS ÖHTUL VÖRGUD VETTE.
HOMMIKUL SÕIDETI PAADIGA JÄRVELE VAATAMA, KUIDAS KALA-SAAK ON.
KÕIK NAUTISID KAUNIST PÄEVA.
TUUL OLI TUKKUMA JÄÄNUD JA JÄRVE-SILM OLI PEEGEL-SILE.
EEMAL LIUGLES PARDI-PERE. PUUKO TÕMBAS VÖRGU VÄLJA.
VÖRGUS OLI KAKS KALA. SAAK OLI HEA.**

VAATA PILTI JA JUTUSTA:



MIKS PUUKO POKUDEGA
JÄRVEL SÕUDIS?



MIDA PEAB PAADISÕIDUL
MEELES PIDAMA?



KAS SINA OLED PAADIGA
SÕITNUD VÕI KALAL KÄINUD?



JUTUSTA SELLEST.



MILLISEID VEESÕIDUKEID VEEL
TEAD?



HÄÄLI, LAO JA KIRJUTA PILDILE
PUUDUVAD SÕNAD.




JOONISTA SIIA KALA JA VÄRVI SEE ÄRA.



KIRJUTA PILDIL JUURDE SÕNAD:

UIMED, SABA, SOOMUSED, PEA, KERE



MILLISEID KALU SAAB PÜÜDA MEIE VEEKOGUDES?

 ÜHENDA SILBID




 KIRJUTA SÕNAD JOONTELE







 PANE TEHETESSE SOBIVAD MÄRGID +, -, =



ARVUTA JA VÄRVI PILT.

4 – MUST


6 – ROHELINE

8 – SININE

5 – SININE

7 – PUNANE

9 - KOLLANE



PILDIL ON _____

KASVADES MUUTUVAD KALA SOOMUSED SUUREMAKS. NII JÄÄVAD SOOMUSTELE AASTARINGID. SELLE JÄRGI SAAB TEADA KALA VANUSE.



UURI LUUBIGA KALA SOOMUST.




JOONISTA, MILLINE SEE ON.





LOENDA, MITU KALA ON VÖRGUS.



VÖRGUS ON _____ KALA.

NÄPUTÖÖNURK



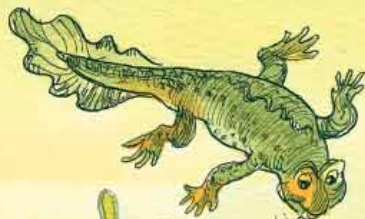

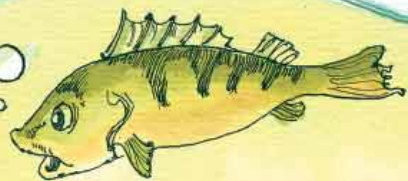
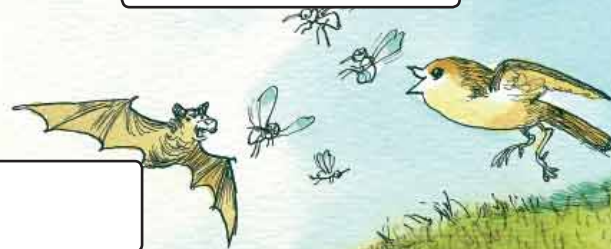

- ▶ LÕIKA VÄRVILISEST KARTONGIST VÄLJA KALA.
- ▶ LIIMI SELLELE SILM, UIMED JA SABA.
- ▶ LÕIKA KERELE SÄLGUD JA KERI ÜMBER KERE VÄRVILIST LÕNGA.
- ▶ LIIMI KALA SOBIVALE TAUSTALE.



Toitumisahel

PUUKO RÄÄGIB POKULE LOODUSE
SEADUSEST.

LOODUSES ON JUBA AEGADE
ALGUSEST SEATUD NII, ET ÜHED
ELUS-OLENDID SÖÖVAD TEISI.
ÜHED SÖÖVAD TAIMI, TEISED SÖÖVAD
LIHA, KOLMANDAD NII ÜHTE KUI TEIST.
ME OLEME KÕIK SELLE SUURE JA
TARGA LOODUSE VÄIKESED
AHELA-LÜLID.



VAATA PILTI JA JUTUSTA:



NIMETA LOOMI, KES SÖÖVAD
AINULT TAIMI.



MILLISEID LOOMI
NIMETATAKSE KISKJATEKS?
NIMETA NEID.



MILLISED LOOMAD SÖÖVAD
TAIMI JA LIHA.



LEIA PILDILT
TOITUMISAHELAIID.



HÄÄLI, LAO JA KIRJUTA PILDILE
PUUDUVAD SÕNAD.

**MEIE RABADES KASVAB KA ÜKS TAIM, KES TOITUB
PUTUKATEST. SEE ON ÜMARA-LEHINE HUULHEIN.**



 LOE JA TÄIDA LÜNGAD.

LOODUSES ON KÕIK OMAVAHEL SEOTUD.

HAAVAKOORT SÖÖVAD P D R, K TS,

J N S JA K BR S.

HAAVAPUU ÕÖNES

ELAVAD L ND RAV,

K RJ - R HN JA TEISED.

KUI HAAB VÄSIB JA ÄRA KUIVAB,

SIIS SAAB TA PUTUKATELE TOIDULAUAKS.



KASUTA



MITU KOLMNURKA SAAD
NEIST LAUA PEALE LADUDA.




LEIA MITU VÕIMALUST.



JOONISTA NEED SIIA.

KASUTA



MITU RUUTU SAAD NEIST LAUA PEALE LADUDA.





LEIA MITU VÕIMALUST.


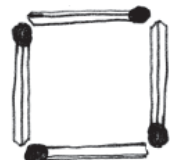



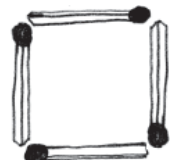
JOONISTA NEED SIIA.





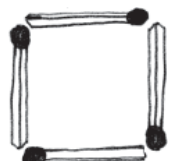

 ARVUTA, MITU TIKKU ON KOKKU.



 +  + = **TIKKU**

 +  + = **TIKKU**

 +  + = **TIKKU**

 +  + = **TIKKU**

 +  + = **TIKKU**

 +  + = **TIKKU**


NÄPUTÖÖNURK

- MEISTERDA ENDALE KREEKA PÄHKLI KOOREST PAAT.
- TÄIDA KOOR PLASTILIINIGA.
- LÕIKA VÄRVILISEST PABERIST PURI JA KINNITA SEE HAMBATIKU KÜLGE.
- SURU TIKK PLASTILIINI SISSE. PANE PAAT KAUSI UJUMA.



Kevadpäev metsas

PÄEVAD ON JÄRJEST MÕNUSAMAD JA SOOJEMAD.
PUUKO JA POKUD JALUTAVAD TIHTI METSAS.
PUUKOLE ON TUTTAVAD KÕIK RAJAD, PUUD JA PÕÕSAD.
METS-LOOMAD JA LINNUD HOOLITSEVAD POEGADE
EEST. NEIL ON KIIRE AEG.



VAATA PILTI JA JUTUSTA:



MILLISED MUUTUSED ON
TOONUD KEVAD ENDAGA
KAASA?



MILLISTEL LOOMADEL
SÜNNIVAD KEVADEL POJAD?



KUIDAS NAD POEGADE EEST
HOOLITSEVAD?



MIDA SULLE MEELDIB PRAEGU
ÕUES TEHA?



HÄÄLI, LAO JA KIRJUTA PILDILE
PUUDUVAD SÕNAD.

VAATA PILTI JA KIRJUTA:



KES TEEB POKU TUJU HEAKS?



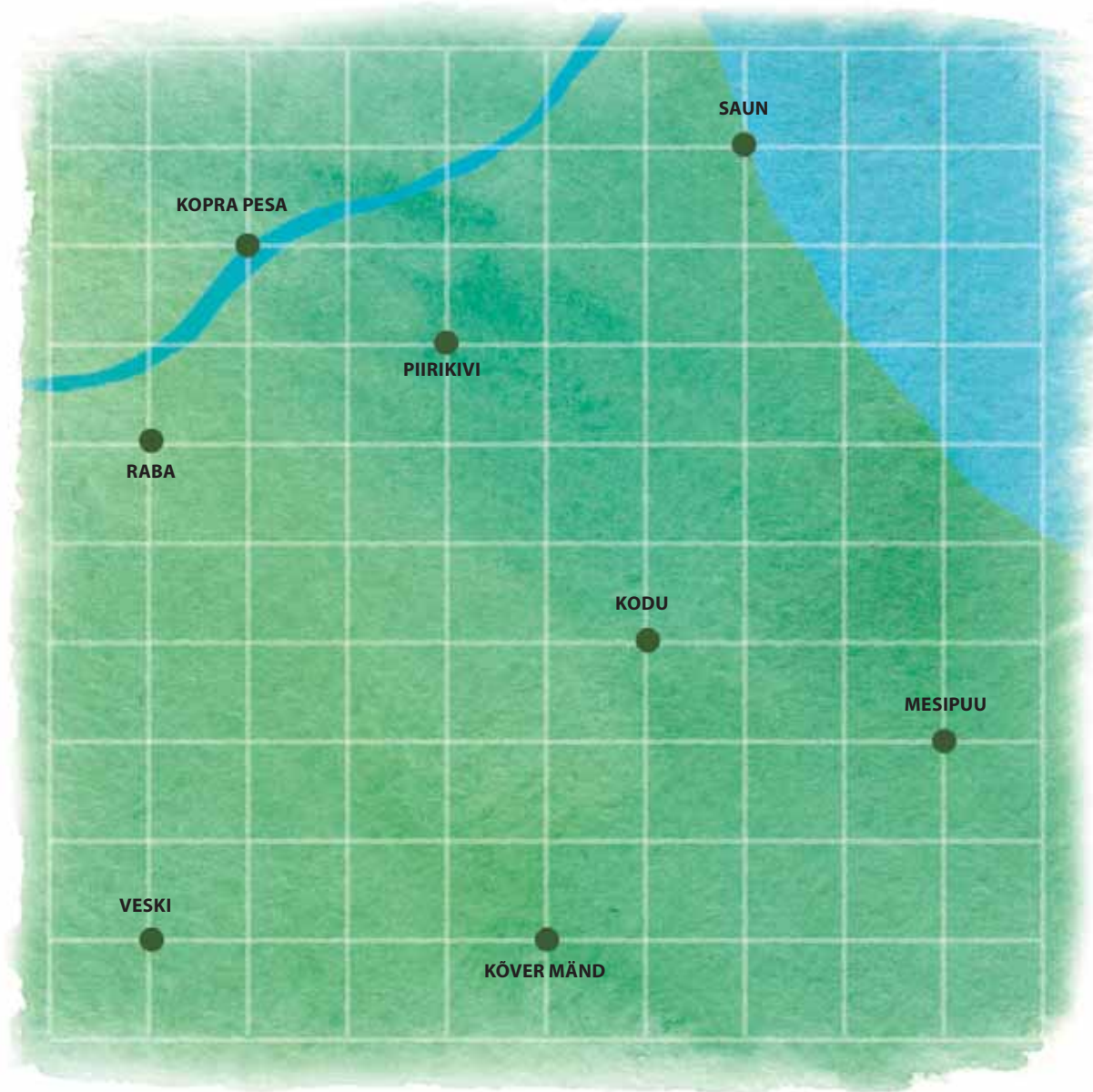
MIS TEEB POKU MEELE RÕÕMSAKS?



**NÄDAL ON TÄIS TOIMETUSI.
RETKED VIIVAD NEID IGA PÄEV
TOREDATESSE PAIKADESSE.
POKUDE JAOKS ON KÕIK
HUVITAV.**

 LIIGU JUHENDI JÄRGI MÖÖDA JOONI.

 KIRJUTA NÄDALAPÄEV ÕIGE PILDI ALLA



ESMASPÄEV

1 ↑ 1 ← 1 ↑ 1 ← 1 ↑

TEISIPÄEV

4 ← 2 ↓ 3 → 1 ↑ 4 →

KOLMAPÄEV

2 → 3 ↑ 6 ← 1 ↑

NELJAPÄEV

4 → 4 ↓ 5 ← 1 ↑

REEDE

2 ← 4 ↓ 2 ← 1 ↑ 1 ←

LAUPÄEV

1 → 2 ↑ 1 ← 3 ↑ 1 →

PÜHAPÄEV

4 ↑ 3 ← 3 ↓ 2 ← 1 →





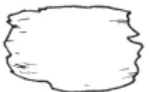








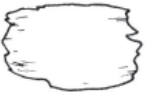


NÄDALAS ON PÄEVAD KINDLAS JÄRJEKORRAS.

MÕISTA, MÕISTA, MIS SEE ON. ÜHEL EMAL SEITSE POEGA?

 KIRJUTA, MIS PÄEVAD NÄDALAST ON PUUDU.  JAGA NÄDAL KAHTE OSSA JA KIRJUTA SOBIV TEHE.

 KASUTA SÕNA ESIMEST TÄHTE.

E  K / N  L P
 T K N / R L 
 E / T  N   P
 T / K  R L 
 E    R / L 

+ =
 + =
 + =
 + =
 + =



MINU NÄDAL

 KIRJUTA IGA PÄEVA JUURDE, MIDA TOREDAT TEGID VÕI NÄGID.

ESMASPÄEVAL

TEISIPÄEVAL

KOLMAPÄEVAL

NELJAPÄEVAL

REEDEL

LAUPÄEVAL

PÜHAPÄEVAL

MINU LEMMIKPÄEV ON

NÄPUTÖÖNURK

- TEE ENDALE TORE VÕILILL.
- LÕIKA KOLLASEST JA ROHELISEST KÄSITÖÖVILDIST RIBAD JA SÄLGUTA NEED. KERI RIBAD ÜMBER KARVATRAADI JA KINNITA LIIMIGA.
- LÕIKA VILDIST LEHT JA KINNITA SEE KARVATRAADI KÜLGE ROHELIST LÕNGA KERIDES. PANE VÕILILL VAASI.





**IGAL ASJAL ON OMA AEG.
AEG EI PEATU KUNAGI.
PUUKO JÄLGIB AEGA PÄIKESE JA LOODUSE JÄRGI.
VAHEL VAATAB PUUKO AEGA UURI PEALT.
UUR ON VANA, AGA KÄIB TÄPSELT.
PUUKO HOIAB UURI VESTI-TASKUS.
TOA SEINAL ON PUUKOL KENA KÄO-KELL.
KELLA SEES ELAB KELLA-KÄGU.
KÄGU KUKUB IGA TÄIS-TUND.**

VAATA PILTI JA JUTUSTA:

🌸 MIDA PUUKO JA POKUD
TEEVAD?

🌸 MIS KELL VÕIB OLLA? MIKS
SA NII ARVAD?

🌸 MILLAL ON VAJA TEADA
TÄPSET KELLAAEGA?

🌸 MILLISEID KELLI ON OLEMAS?

🌸 KAS SA TEAD, KUIDAS
PÄIKESE JÄRGI KELLAAEGA
VAADATA?

✎ HÄÄLI, LAO JA KIRJUTA
PILDILE PUUDUVAD SÕNAD.



✎ JOONISTA SIIA ERINEVAID KELLASID.

✎ JUTUSTA, KUS JA MILLAL NEID KASUTATAKSE.




 KIRJUTA KELLALE PUUDUVAD ARVUD.


 JOONISTA KELLALE OSUTID.




KELL ON KÜMMME.



KELL ON KOLM.



KELL ON SEITSE



KELL ON KAKSTEIST.

PIKK OSUTI NÄITAB MINUTEID.
LÜHIKE OSUTI NÄITAB TUNDE.



POKUD KELLA EI VAJA. NEMAD TUNNEVAD LIHTSALT, MIS AEG PARAJASTI ON. NAGU LILLEDKI. VARA ÄRKAVAD KIBUVITS JA VÕILILL. HILJEM TEEVAD ÕIE LAHTI VESIROOS JA SAIALILL. LILLED SULGEVAD OMA ÕIE ERINEVAL AJAL. NII ON IGAL LILLEL OMA KELL. VIHMASE ILMAGA LILLEKELLA VAADATA EI SAA.

 KIRJUTA KELLA ALLA ÕIGE AEG.

 VÖRDLE LILLI OMAVAHEL

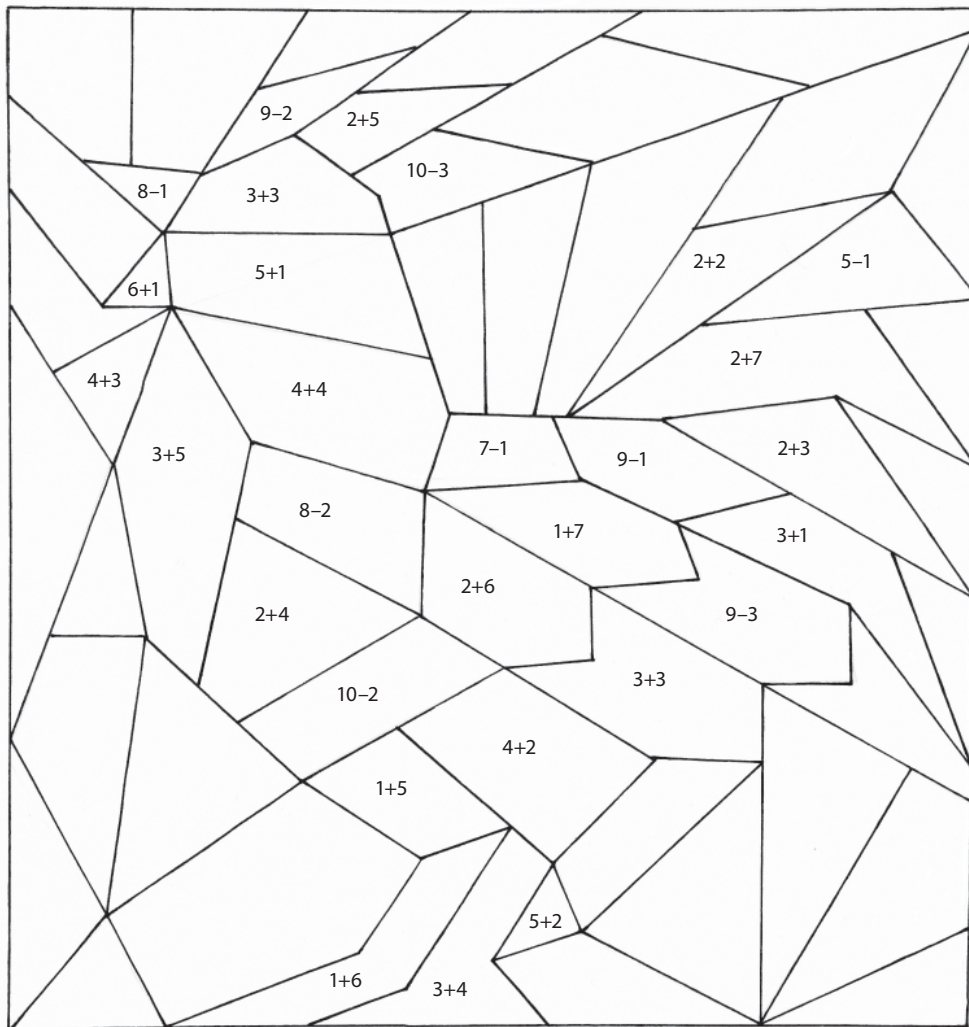
 **LILL AVAB ÕIE HOMMIKUL**

 **LILL SULGEB ÕIE ÕHTUL**



 ARVUTA JA VÄRVI JUHENDI JÄRGI

 SAAD TEADA, KES VANAL AJAL TALUS ÄRATUSKELLAKS OLI.



 MUST – 4

VALGE – 5

KOLLANE – 6


PUNANE – 7

PRUUN – 8

ORANŽ – 9



 MIDA PILDILT LEIAD? KIRJUTA NIMEKIRI.






NÄPUTÖÖNURK







- ▶ JOONISTA VÄRVIPLIIATSITEGA PÄIKESE LOOJUMISE PILT.
- ▶ TÕMBA VEEPIIR JA JOONISTA SELLELE KOLLASE JA ORANŽI VÄRVIGA LOOJUV PÄIKE.
- ▶ JOONISTA VETTE PÄIKESE PEEGELDUS.
- ▶ VÄRVI TAEVAS JA VESI.





ÜHEL PÄEVAL JÕUDIS PUUKO KOOS POKUDEGA METSA ÄÄRDE. SEALT PAISTIS INIMESTE KODU. POKUD IMESTASID, MIKS NEIL NII PALJU MAJU ON VAJA. PUUKO SELETAS: ÜHES MAJAS ELAB PERE. TEINE MAJA ON KODUKS LOOMADELE. KOLMANDAS HOITI VILJA JA MUID VARUSID. ERALDI MAJAKESES KÄIDI PESEMAS. OMA KODUS ON KÕIGIL HEA OLLA. SELLEST SAID POKUD ARU.

VAATA PILTI JA JUTUSTA:

-  MIKS OLII MAAKODUS NII PAJU MAJU?
-  MILLEKS ON VAJA SAUNA, LAUTA JA AITA?
-  MILLISEID HOONEID TALU JUURES VEEL OLLA VÕIB?
-  MILLE POOLES ERINEB MAAELU LINNAELUST?
-  MIKS ON TORE ELADA MAAL?
-  MIKS ON TORE ELADA LINNAS?


 HÄÄLI, LAO JA KIRJUTA PILDILE PUUDUVAD SÕNAD.

MÕISTA, MÕISTA, KES ME OLEME?

 KERA EES, ORA TAGA, HIIREKELDER KESKEL? _____


 SÖÖDA KUI VENDA, SEO KUI VARAST. _____

 EEST KUI ORA, KESKELT KUI KERA, TAGANT LAI KUI LABIDAS.



VASTUSED: KANA, KASS, HOBUNE

VASIKAS PÕRSAS TALL TIBU KUTSIKAS KASSIPOEG VARSS




KELLE POJAD NEED ON?



MIKS NEID LOOMI KASVATATAKSE?

 HÄÄLI JA KIRJUTA, KES KUS ELAB?


 JUTUSTA, MIDA KEEGI SÖÖB.



 UURI ARVU 10. TÄIDA LÜNGAD JA ARVUTA.

$10 + \square = 10$

$\square + 10 = 10$




$10 - 0 = \square$

$10 - 10 = \square$

$10 + \square = 10$

$\square + 10 = 10$

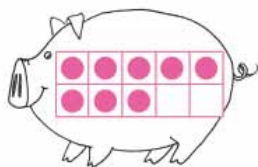


$10 - 1 = \square$

$10 - 9 = \square$

$10 + \square = 10$

$\square + 10 = 10$

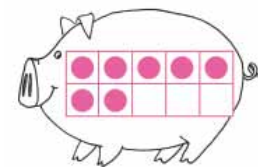


$10 - 2 = \square$

$10 - 8 = \square$

$10 + \square = 10$

$\square + 10 = 10$

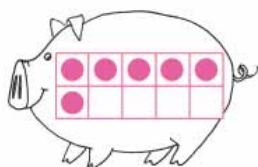


$10 - 7 = \square$

$10 - 3 = \square$

$10 + \square = 10$

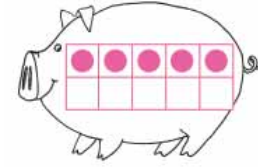
$\square + 10 = 10$



$10 - 6 = \square$

$10 - 4 = \square$

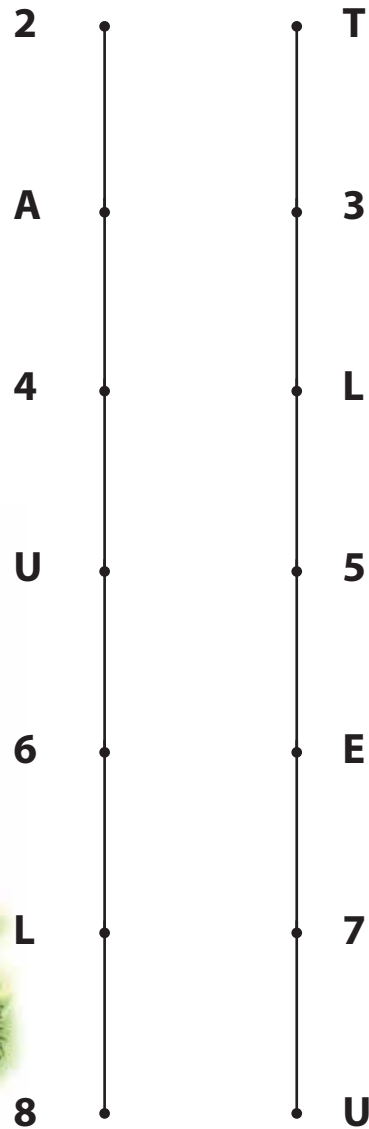

$10 + \square = 10$



$10 - 5 = \square$

 ÜHENDA PUNKTID ÕPETUSE JÄRGI. KASUTA JOONLAUDA.

2-3-4-5-6-7-8
T-A-L-U-E-L-U




 VÄRVI NELINURGAD.

NÄPUTÖÖNURK

- ▶ LÕIKA KAHEKORDSEST VÄRVILISEST KARTONGIST VÄLJA TIBU KEHA. ŠABLOONI LEIAD LK 93.
- ▶ VÄRVI TIBU NOKK JA JOONISTA SILMAD. MÄSSI KEHA ÜMBER KOLLAST LÕNGA. LÕIKA LÕNG ETTEVAATLIKULT KAHE PABERI VAHELT KATKI JA SEO SEALT KÕVASTI KINNI.
- ▶ MURRA JALAD KAHELE POOLE. TIBU ON VALMIS.



Kevadine suurpuhastus




ÕUEST TUPPA TULLES TUNDUS KÕIK TOLMUNE JA HALL. PUUKO KUTSUS POKUD APPI KAMBRIT VUNTSIMA. PISIKESED POKUD VÕTSID TOLMU RIIULILT JA KAPI PEALT. TEISED PÜHKISID PUHTAKS PÕRANDAD PINGI ALT JA KAPI TAGANT. NÜÜD LÄIKIS PUUKO TUBA PUHTUSEST, KUID VUNTSIJAD ISE OLID TOLMUST HALLID. OLI AEG SAUN KÜDEMA PANNA.

VAATA PILTI JA JUTUSTA:

 MIS KOHT ON KAMBER?


 MIDA TÄHENDAB
VUNTSIMINE?

 KUIDAS POKUDEL
VUNTSIMINE KÄIS?

 KUIDAS TUBA SEGAMINI
LÄHEB?

 KES SINU KODUS KORISTAB?

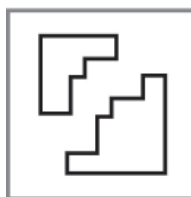
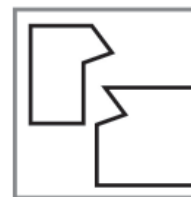
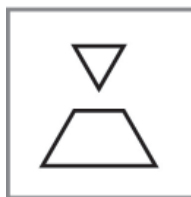
 KUIDAS SINA AIDATA SAAD?

 HÄÄLI, LAO JA KIRJUTA
PILDILE PUUDUVAD SÕNAD.

 KIRJUTA KUJUNDI JUURDE ÕIGE SÕNA: KOLMNURK; RUUT; RING;
RISTKÜLIK.

 MÕTLE, MILLISTEST OSADEST SAAD KOKKU PANNA NEED
KUJUNDID.

 VÄRVI NEED ÜHTE VÄRVI.



 LOE PILTJUTTU JA ARVUTA.



SÄRAS TAEVAS JA KELL OLI $10-7=$.



KUTSUS SÕBRAD



JALUTAMA JA



LAULU KUULAMA.

POKUD LEIDSID METSAST $8-4=$ ERINEVAT LILLE.

PUU OTSAS TOKSIS



$9-8=$



. ÜLE TEE KALPSAS $5-2=$



METSASERVAL JÄID KÕIK KOHKUNULT SEISMA. MAAS OLI $6+2=$ PABERIT,

$7-5=$



JA $6-5=$

KILEKOTT. KUST OLID NEED KÜLL METSA SAANUD?

SEE OLI JÄLG INIMESTEST, KES EILE  MATKAMAS KÄISID.



JA



KORISTASID METSA-ALUSE ÄRA.

SELLISED KÜLALISED EI OLE METSA OODATUD.



MILLIST KAHJU VÕIB TEHA METSA VIIDUD PRAHT LOODUSELE?



MIDA SINA TEED METSAS TÜHJAKS SAANUD JOOGIPUDELI JA MUU PRAHIGA?

MITMEID MATERJALE SAAB UUESTI KASUTADA. NEID KOGUTAKSE MUUST PRÜGIST ERALDI.

 PAIGUTA PRÜGI JOONE ABIL ÕIGESSE KASTI.

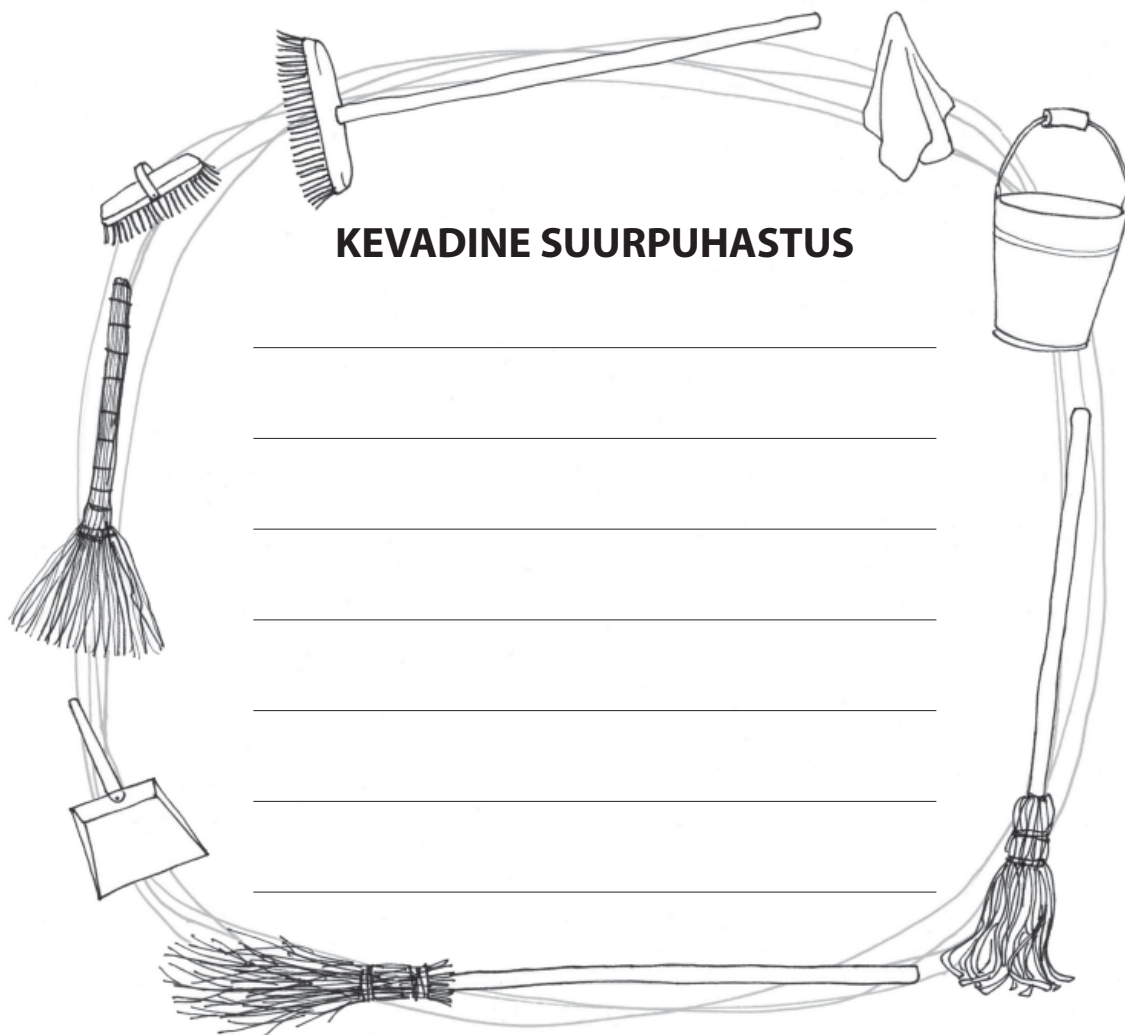


MIDA VEEL VÕIB NENDESSE KASTIDESSE PANNA?



KUIDAS SINU PERES PRÜGI SORTEERITAKSE?

 MOODUSTA PEALKIRJA TÄHTEDEST UUSI SÖNU




 ARVUTA JA KIRJUTA VASTUSE JUURDE ÕIGE TÄHT.

$7 - 3 = \underline{\quad}$ 

$2 + 5 = \underline{\quad}$ 

$4 + 1 = \underline{\quad}$ 

$10 - 2 = \underline{\quad}$ 

$6 + 3 = \underline{\quad}$ 

$7 - 6 = \underline{\quad}$ 

$5 + 1 = \underline{\quad}$ 

$4 + 3 = \underline{\quad}$ 







$8 - 5 = \underline{\quad}$ 

$7 - 3 = \underline{\quad}$ 

1	U
2	A
3	I
4	O
5	E
6	B
7	L
8	N
9	T
10	K



TORNI EHTAMISE MÄNG


-  MÄNGI KOOS SÕBRAGA.
-  MÕLEMAL MÄNGIJAL ON 10 KLOTSI.
-  VEERETA TÄRINGUT.
-  KUI SAAD 2, 4 VÕI 6 TÄPPI, LISA TORNILE KAKS KLOTSI.
-  KUI SAAD 1, 3, 5 TÄPPI, VÕTA ÜKS KLOTS VÄHEMAKS.
-  KUMB SAAB ENNE OMA TORNI VALMIS?



NÄPUTÖÖNURK

- MEISTERDA WC PABERI RULLIST SOORU. LÕIKA RULLI VASTASSERVADEST VÄLJA KAKS U-KUJULUST AUKU.
- VÄRVI RULL. LÕIKA SOBIVAT VÄRVI KARTONGIST KASSILE PEA JA SABA JA KINNITA NEED KEHALE.
- KINNITA SILMAD, NINA JA KARVATRAADIST VURRUD LIIMIPÜSTOLI ABIL.







SUITSU-SAUN OLI VALMIS. VESI OLI KUUM JA KERIS TULINE. PUUKO VISKAS LEILI. SAUN SAI AURU TÄIS. KASE-VIHT LÖHNAS MAGUSASTI. KÕIK VIHTLESID MÕNUGA. TIHTI KÄIS SAUNA-UKS VALLA JA VIHTLEJAD SULPSASID JAHEDASSE JÄRVE-VETTE. VANA SAUN POLNUD KAUA NÄINUD NII LUSTAKAT SELTS-KONDA.


VAATA PILTI JA JUTUSTA:

 MIS VÖIS OLLA POKUDELE SAUNASKÄIGU JUURES UUT?

 MIS KOHT ON SUITSUSAUN?

 KUS SINA OLED SAUNAS KÄINUD?

 KUS SULLE MEELDIB ENNAST PESTA?

 KUI TIHTI TULEB ENNAST PESTA?


 KUIDAS SA HOOLITSED ENDA HAMMASTE EEST?

 HÄÄLI, LAO JA KIRJUTA PILDILE PUUDUVAD SÕNAD.

 AITA POKUL LEIDA TEE SAUNANI.

 KIRJUTA SELLE JUURDE: SAUN

 JOONISTA SAUNA JUURDE JÄRV.



 LOE SÖNU.

 LEIA SÖNA, MIS EI SOBI RITTA. PÖHJENDA.

 TÕMBA SELLELE VÄRVILINE JOON ÜMBER.

LEIB	JUUST	SEEP	PIIM	VORST	KOMM
HAAMER	KAMM	SAAG	KIRVES	VIKAT	LABIDAS
KLOTSID	NUKK	PALL	TÄRING	VURR	HAMBAHARI
ŠAMPOON	RONG	AUTO	LENNUK	VANKER	BUSS
PÜKSID	MÜTS	KLEIT	KÄTERÄTT	VEST	KAMPSUN



 MIS ASJAD EI SOBINUD RITTA?

 KUS JA MILLEKS SINA NEID ASJU KASUTAD?

 JOONISTA JA KIRJUTA.

KÄSI PESEN _____ SÖÖKI

JA _____ ÕUES MÄNGIMIST.

MILLAL VEEL PESEN KÄSI?

MINA PESEN HAMBALD _____ KORDA PÄEVAS.

MINU HAMBALHARI ON _____

MINU HAMBALPASTAL ON _____ MAITSE.

MUL ON JUBA _____ JÄÄVHAMMAST.

MULLE MEELDIB ENNAST PESTA _____

SAUNAS, VANNIS, DUŠŠI ALL

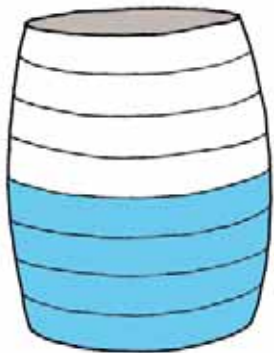
 JOONISTA SIIA OMA
HAMBALHARI JA HAMBALPASTA.



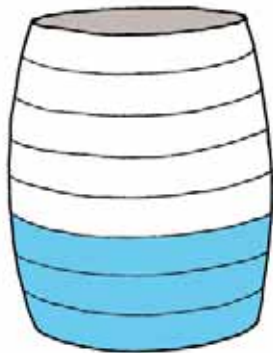
TÜNNI MAHUB 8 PANGE VETT.



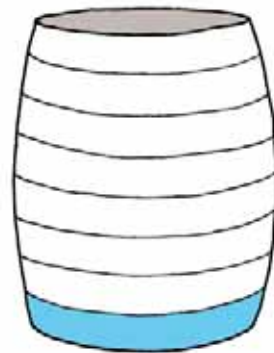
ARVUTA, MITU PANGE PEAB VETT JUURDE TOOMA.



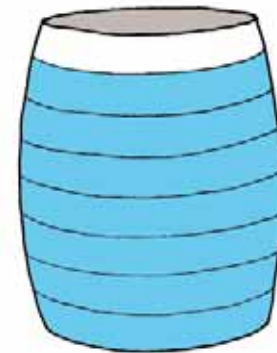
$$8 - 4 = \square \text{ PANGE}$$



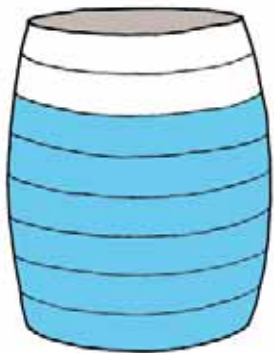
$$8 - 5 = \square \text{ PANGE}$$



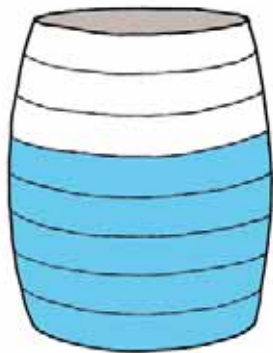
$$8 - 7 = \square \text{ PANGE}$$



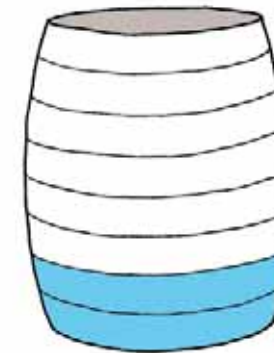
$$8 - 1 = \square \text{ PANGE}$$



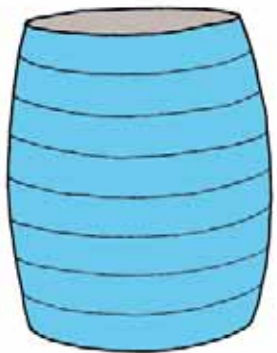
$$8 - 2 = \square \text{ PANGE}$$




$$8 - 3 = \square \text{ PANGE}$$



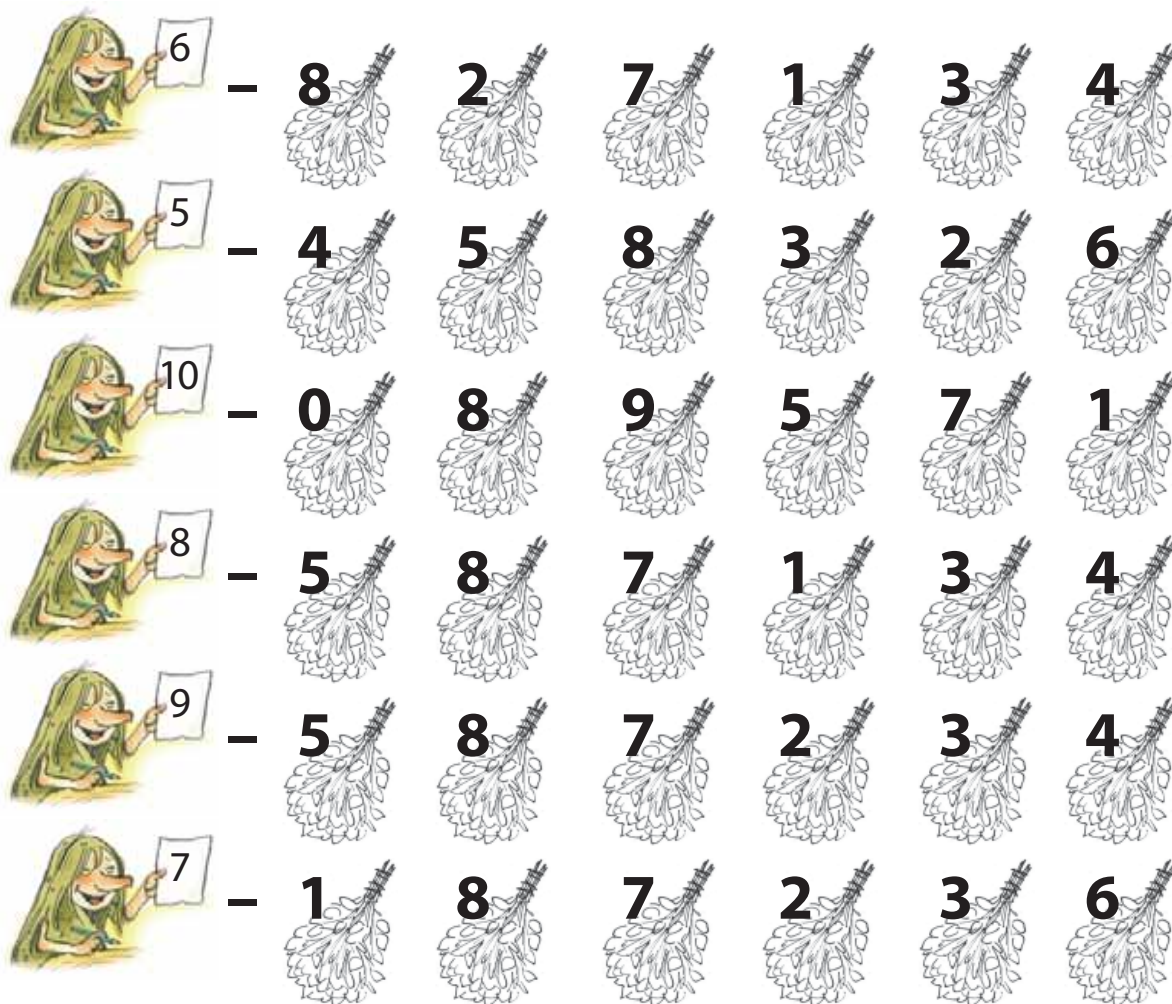
$$8 - 6 = \square \text{ PANGE}$$



$$8 - 0 = \square \text{ PANGE}$$

 LEIA IGAST REAST ARVUD, MIDA LIITES SAAD POKU NÄIDATUD ARVU.

 VÄRVI SOBIVAD SAUNAVIHAD.



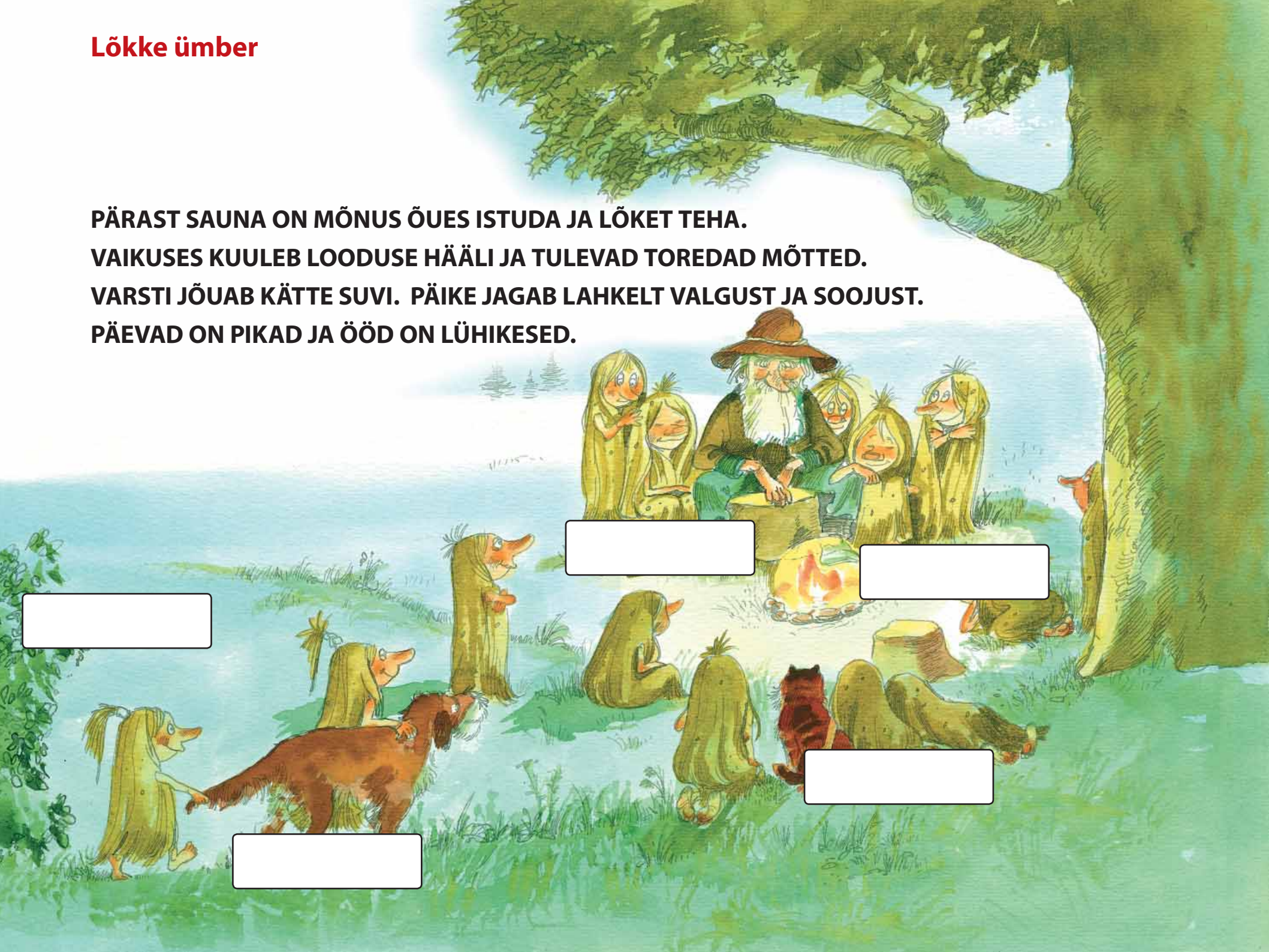
NÄPUTÖÖNURK

- ▶ TRÜKI KÄTERÄTILE MUSTER.
- ▶ VALI SOBIVA SUURUSEGA ALUSPAPER.
- ▶ KASUTA TRÜKKIMISEKS ERINEVAID ESEMEID: KUSTUKUMM, NIIDIRULL, KORGID, PLIATSI OTS, TEMPLID JA MUUD.



Lökke ümber


**PÄRAST SAUNA ON MÕNUS ÕUES ISTUDA JA LÖKET TEHA.
VAIKUSES KUULEB LOODUSE HÄÄLI JA TULEVAD TOREDAD MÕTTED.
VARSTI JÕUAB KÄTTE SUVI. PÄIKE JAGAB LAHKELT VALGUST JA SOOJUST.
PÄEVAD ON PIKAD JA ÖÖD ON LÜHIKESED.**



VAATA PILTI JA JUTUSTA:


 MILLEST VÕIVAD PUUKO JA POKUD MÕELDA?

 MILLISEID HÄÄLI NAD KUULEVAD?

 MIDA PEAB LÖKKE TEGEMISEL ARVESTAMA?

 KUS JA KELLEGA OLED SINA LÖKET TEINUD?

 MILLISTEL TÄHTPÄEVDEL ON KOMBEKS LÖKET TEHA?

 HÄÄLI, LAO JA KIRJUTA PILDILE PUUDUVAD SÕNAD.



MILLISEID HÄÄLI POKUD LÖKKE ÄÄRES KUULSID? ÜHENDA SÕNAD.

SÄÄSE

SIRIN

TUULE

PRAGIN

KAKU

SAHIN

RITSIKA

PININ

OKSA

SIRIN

LÖKKE

KOHIN

LEHE

HUIGE



PROOVI ISE NEID HÄÄLI TEHA.



LASE TEISTEL ARVATA, MIS HÄÄLT TEED.

METSI ON MITMESUGUSEID.

METS SAAB NIME SELLE JÄRGI, MIS PUID SEAL KÕIGE ROHKEM KASVAB.

KUI ERINEVAID PUID ON PALJU, KUTSUTAKSE METSA SEGAMETSAKS.

PUUKO KODU LÄHEDAL ON KUUSEMETS

JA MÄNNIMETS.


SEE ON _____

SIIN ON _____

MÄNNIKUS KASVAVAD _____ ,

JA _____

SIIA TEEB OMA PESA _____



 KIRJUTA PILTIDE JUURDE
ÕIGED SÕNAD.

KUUSIK
MÄNNIK
VALGE
HÄMAR
KUUSERIISIKAS
MÄNNIRIISIKAS
KANARBIK
JÄNESEKAPSAS
POHL
MUSTIKAS
MÄGER
KARU



SEE ON _____ . SIIN ON _____ .

KUUSIKUS KASVAVAD _____ , _____

JA _____ . SIIN MÜTTAB _____ .


 ARVUTA, KES SELLE KÄBI SEEST ON SEEMNEID SÖÖNUD.



KUUSEKÄBI ON PIKLIK.




**MÄNNIKÄBI ON LÜHEM
JA ÜMARAM.**

$8 - 2 - 3 = \underline{\quad}$ 

$1 + 5 + 1 = \underline{\quad}$ 

$4 + 4 + 2 = \underline{\quad}$ 

$7 - 2 - 1 = \underline{\quad}$ 

$10 - 2 - 1 = \underline{\quad}$ 

$3 + 3 + 3 = \underline{\quad}$ 

$8 - 4 + 1 = \underline{\quad}$ 

$8 - 2 - 4 = \underline{\quad}$ 

$3 + 4 - 2 = \underline{\quad}$ 

$9 - 2 - 1 = \underline{\quad}$ 

$2 + 1 + 3 = \underline{\quad}$ 

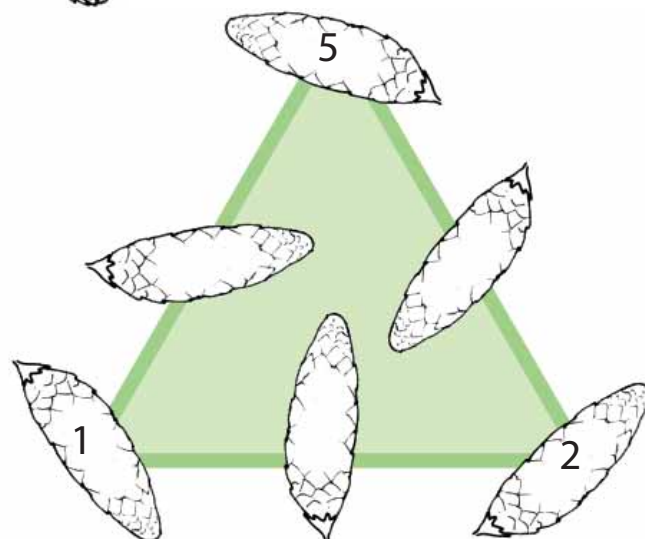
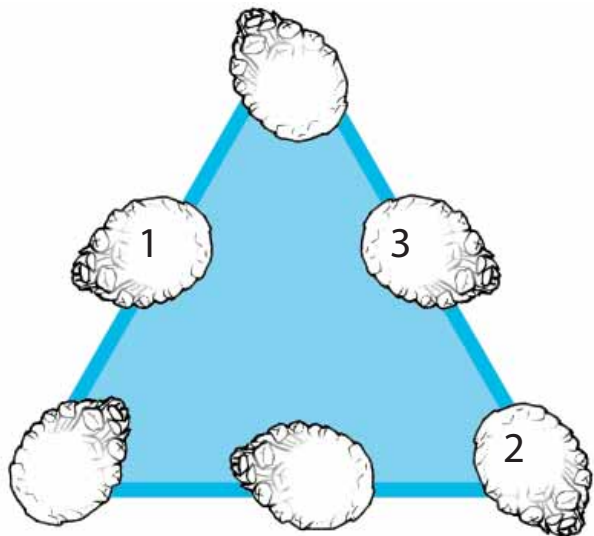
$8 - 5 + 4 = \underline{\quad}$ 



2	N
3	O
4	V
5	H
6	I
7	R
9	Ä
10	A

 KUJUNDI IGAL KÜLJEL OLEVATE ARVUDE LIITMISEL SAAD VASTUSEKS 9.

 LEIA KÄBIDE SISSE SOBIVAD ARVUD.



NÄPUTÖÖNURK

- MEISTERDA MUNAKARBIST JAANIUSSIKE.
- LÕIKA KARBIST USSI KEHA JA VÄRVI SEE GUAŠŠVÄRVIDEGA. JOONISTA JAANIUSSILE NÄGU JA LIIMI SILMAD.
- MEISTERDA KARVATRAADIST TUNDLAD NING KAUNISTA JAANIUSS KARVAPALLIDEGA.



Suvi on käes




SUVI JÕUDIS KOHALE MÄRKAMATULT. TÕI KAASA SOOJAD ILMAD, PUNASED MAASIKAD JA PALJU VABA AEGA. POKUDE RETKED MUUTUSID AINA PIKEMAKS. LOODUSES LEIDUB PALJU IMELIST, KUI OSKAD VAADATA. MÕNI NÄEB ROHKEM, TEINE VÄHEM. KA VAATAMIST TULEB HARJUTADA JA ÕPPIDA.

VAATA PILTI JA JUTUSTA:

- 🌸 KUHU PUUKO JA POKUD ON JÕUDNUD?
- 🌸 MIDA HUVITAVAT NAD SEAL NÄEVAD?
- 🌸 KUS JA KELLEGA OLED SINA MATKAMAS KÄINUD?
- 🌸 MIDA PÕNEVAT OLED LOODUSES NÄINUD?
- 🌸 KUIDAS TULEB LOODUSES KÄITUDA?


✎ HÄÄLI, LAO JA KIRJUTA
PILDILE PUUDUVAD SÕNAD.




**PILTE LEIAB MAAST JA TAEVAST.
PUUKO JA POKUD VAATASID PILVI.
PISIKESE POKU MEELEST UJUS TAEVAS SUUR KALA.**


POKUD ON KOGU PIKA TALVE UURINUD PUUKO RAAMATUID JA VAATAMIST HARJUTANUD. NENDE PEAD ON TÄIS SEIKLUSI JA KUMMALISI TEGELASI, KELLEGA OLEKS PÕNEV KOHTUDA. METS ON NENDE NÄGEMISEKS SOBIV PAIK. SEAL JALUTADES OSKAVAD POKUD PALJU IMELIST LEIDA. JU NAD ON VAATAMISE SELGEKS SAANUD.

 VAATA PILTI JA KIRJUTA, MIDA VÕI KEDA SINA NÄED.





MÄNGI KOOS SÕBRAGA TÄRINGUMÄNGU.




- ✿ VALI ENDALE LEHT, MILLELT ALUSTAD.
- ✿ VEERETA TÄRINGUT JA LIIGU NUPUGA MÖÖDA LEHTEDEST RADA.
- ✿ OTSI MUTUKAS, KELLE TÄPPIDE ARVU JA LEHEL OLEVA ARVU SUMMA ON 6.
- ✿ VÄRVI PUTUKAS VALITUD VÄRVIGA. (NÄITEKS 1 + MARDIKAS 5 TÄPIGA)
- ✿ VÕIDAB SEE, KES SAAB ROHKEM PUTUKAID VÄRVITUD.



POKUDE SOOVITUSED SUVISEKS MEISTERDAMISEKS

- EHITA UHKE LIIVALOSS. KAUNISTA SEE SULGEDE, TEOKARPIDE JA KIVIKESTEGA.
- MEISTERDA PUUKOOREST LAEV.
- PUNU VÕILILLEDEST PÄRG.
- MEISTERDA TUULELOHE.
- LAO KIVIDEST JA KÄBIDEST LIIVALE VÕI SAMBLALE MUSTREID, TÄHTI JA KUJUNDEID.



© 2012 Kaie Kubri, Thea Simmerman – sisu

© 2012 Külli Leppik – illustratsioonid

© 2012 Liina Tuuling – illustratsioonid

